


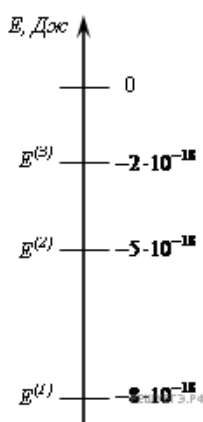
1. На рисунках А, Б и В приведены спектры излучения атомарных газов А и В и газовой смеси Б.



На основании анализа этих участков спектров можно сказать, что смесь газа содержит

- 1) только газы А и В
- 2) газы А, В и другие
- 3) газ А и другой неизвестный газ
- 4) газ В и другой неизвестный газ

2. На рисунке изображена схема возможных значений энергии атомов разреженного газа.



В начальный момент времени атомы находятся в состоянии с энергией $E^{(3)}$. Возможно испускание газом фотонов с энергией

- 1) только $2 \cdot 10^{-18}$ Дж
- 2) только $3 \cdot 10^{-18}$ и $6 \cdot 10^{-18}$ Дж
- 3) только $2 \cdot 10^{-18}$, $5 \cdot 10^{-18}$ и $8 \cdot 10^{-18}$ Дж
- 4) любой от $2 \cdot 10^{-18}$ до $8 \cdot 10^{-18}$ Дж

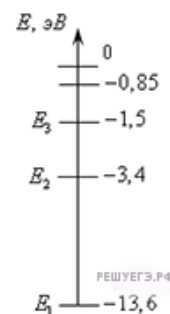
3. На рисунке приведены спектр поглощения разреженных атомарных паров неизвестного вещества (в середине) и спектры поглощения паров известных элементов (вверху и внизу).



По анализу спектров можно утверждать, что неизвестное вещество содержит

- 1) только кальций (Ca)
- 2) только стронций (Sr)
- 3) кальций и еще какое-то неизвестное вещество
- 4) стронций и еще какое-то неизвестное вещество

8. На рисунке показаны энергетические уровни атома водорода. Если атом находится в основном состоянии, то для его перехода в ионизированное состояние необходимо



- 1) получить от атома энергию 3,4 эВ
- 2) сообщить атому энергию 3,4 эВ
- 3) получить от атома энергию 13,6 эВ
- 4) сообщить атому энергию 13,6 эВ

9. Атом бора 8_5B содержит

- 1) 8 протонов, 5 нейтронов и 13 электронов
- 2) 8 протонов, 13 нейтронов и 8 электронов
- 3) 5 протонов, 3 нейтрона и 5 электронов
- 4) 5 протонов, 8 нейтронов и 13 электронов

10. На рисунке приведены спектры поглощения атомарных паров неизвестного вещества и трех известных элементов. По виду спектров можно утверждать, что неизвестное вещество содержит в заметном количестве атомы

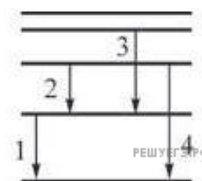


- 1) только стронция (Sr) и кальция (Ca)
- 2) только натрия (Na) и стронция (Sr)
- 3) только стронция (Sr), кальция (Ca) и натрия (Na)
- 4) стронция (Sr), кальция (Ca), натрия (Na) и других элементов

11. Линейчатые спектры поглощения и испускания характерны для

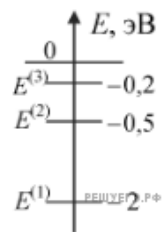
- 1) любых тел
- 2) любых нагретых тел
- 3) для твердых нагретых тел
- 4) для нагретых атомарных газов

12. На рисунке изображена схема электронных переходов между энергетическими уровнями атома, происходящих с излучением фотона. Минимальный импульс имеет фотон, излучаемый при переходе




- 1) 1
- 2) 2
- 3) 3
- 4) 4

13. Схема низших энергетических уровней атомов разреженного атомарного газа имеет вид, изображенный на рисунке. В начальный момент времени атомы находятся в состоянии с энергией $E^{(2)}$. Согласно постулатам Бора данный газ может излучать фотоны с энергией



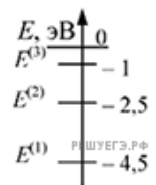
- 1) 0,3 эВ, 0,5эВ и 1,5 эВ
- 2) только 1,5 эВ
- 3) любой в пределах от 0 до 0,5 эВ
- 4) только 0,3 эВ

14. На рисунке указаны три низших значения энергии атома натрия. Атомы находятся в состоянии $E^{(1)}$. При освещении атомарных паров натрия светом с энергией фотонов $5,1 \cdot 10^{-19}$ Дж



- 1) произойдет переход атомов в состояние $E^{(2)}$
- 2) произойдет переход атомов в состояние $E^{(3)}$
- 3) произойдет ионизация атомов
- 4) атомы не будут поглощать свет

15. На рисунке показана схема низших энергетических уровней атома. В начальный момент времени атом находится в состоянии с энергией $E^{(2)}$. Фотоны какой энергии может излучать атом?



- 1) только 2 эВ
- 2) только 2,5 эВ
- 3) любой, но меньшей 2,5 эВ
- 4) любой в пределах от 2,5 до 4,5 эВ

16. На рисунке приведен спектр поглощения неизвестного газа и спектры поглощения атомарных паров известных элементов. По виду спектров можно утверждать, что неизвестный газ содержит атомы



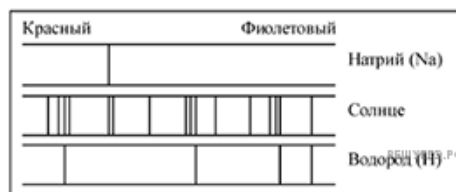
- 1) азота (N), магния (Mg) и других элементов, но не калия (K)
- 2) только азота (N) и калия (K)
- 3) только магния (Mg) и азота (N)
- 4) магния (Mg), калия (K) и азота (N)

17. На рисунках А, Б и В приведены спектры излучения паров кальция Ca, стронция Sr и неизвестного образца. Можно утверждать, что в неизвестном образце



- 1) не содержится стронция
- 2) содержатся кальций и еще какие-то элементы
- 3) не содержится кальция
- 4) содержится только кальций

18. На рисунке приведены спектры поглощения паров натрия, атомарного водорода и атмосферы Солнца.



Об атмосфере Солнца можно утверждать, что в ней

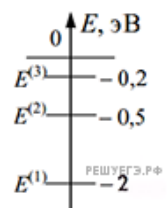
- 1) не содержится натрия
- 2) не содержится водорода
- 3) содержится только натрий и водород
- 4) содержится и натрий, и водород

19. На рисунке приведены спектр поглощения разреженных атомарных паров неизвестного вещества и спектры поглощения атомарных паров известных элементов. Проанализировав спектры, можно утверждать, что неизвестное вещество содержит



- 1) только водород (H) и гелий (He)
- 2) водород (H), гелий (He) и натрий (Na)
- 3) только натрий (Na) и водород (H)
- 4) натрий (Na), водород (H) и другие элементы, но не гелий (He)

20. Схема низших энергетических уровней атома имеет вид, изображенный на рисунке. В начальный момент времени атом находится в состоянии с энергией $E^{(2)}$. Согласно постулатам Бора атом может излучать фотоны с энергией



- 1) только 0,5 эВ
- 2) только 1,5 эВ
- 3) любой, меньшей 0,5 эВ
- 4) любой в пределах от 0,5 до 2 эВ

21. Спектр какого типа наблюдается у излучения атомарного водорода?

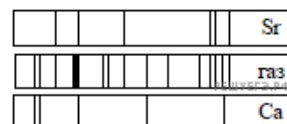
- 1) линейчатый
- 2) полосатый
- 3) сплошной
- 4) ответ зависит от разрешающей силы используемого спектроскопа

22. На рисунке приведены спектр поглощения неизвестного газа и спектры поглощения атомарных паров известных элементов. По виду спектров можно утверждать, что неизвестный газ содержит атомы



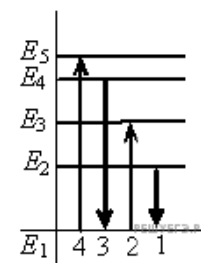
- 1) только азота (N)
- 2) азота (N), магния (Mg) и другого неизвестного вещества
- 3) только магния (Mg)
- 4) только магния (Mg) и азота (N)

23. На рисунке приведены спектр поглощения неизвестного газа и спектры поглощения атомарных паров известных металлов. По виду спектров можно утверждать, что неизвестный газ содержит атомы



- 1) только стронция (Sr)
- 2) стронция (Sr), кальция (Ca) и другого вещества
- 3) только стронция (Sr) и кальция (Ca)
- 4) только кальция (Ca)

24. На рисунке изображена диаграмма энергетических уровней атома. Какой цифрой обозначен переход, который соответствует поглощению фотона с наибольшей частотой?

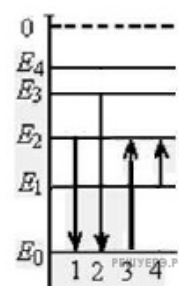


- 1) 1
- 2) 2
- 3) 3
- 4) 4

25. На рисунке изображена упрощенная диаграмма энергетических уровней атома. Нумерованными стрелками отмечены некоторые возможные переходы атома между этими уровнями.

Установите соответствие между процессами поглощения света наименьшей длины волны и испускания света наибольшей длины волны и стрелками, указывающими энергетические переходы атома.

К каждой позиции первого столбца подберите соответствующую позицию второго и запишите в таблицу выбранные цифры под соответствующими буквами.



Запишите в таблицу выбранные цифры под соответствующими буквами.

Цифры в ответе могут повторяться.

ПРОЦЕСС

ЭНЕРГЕТИЧЕСКИЙ ПЕРЕХОД

- А) поглощение света наименьшей длины волны
Б) излучение света наибольшей длины волны

- 1) 1
- 2) 2
- 3) 3
- 4) 4

